

**Демонстрационный вариант
Математика (стартовая работа)
4 класс**

Продолжительность работы: 30 минут

1 Укажи наибольшую из величин.

- 1) 23 дм
- 2) 320 мм
- 3) 230 см
- 4) 3 м

2 Школьники украшали зал к празднику. Пять классов изготовили по 3 новых гирлянды. С прошлого года остались ещё 7 гирлянд. Сколько всего гирлянд использовали для украшения зала?

Ответ: _____ г.

В ответ запиши только число.

3 Найди значение числового выражения $(1000 : 100 + 46) : 7$.

Ответ: _____.

В ответ запиши только число.

4 За 6 одинаковых по цене открыток заплатили 90 рублей. Сколько таких открыток можно купить на все деньги, представленные на рисунке?



Ответ: _____ откр.

В ответ запиши только число.

5 Вычисли периметр прямоугольника со сторонами 9 см и 2 см.

Ответ: _____ см.

В ответ запиши только число.

- 6 Площадь одной четвёртой части квадрата равна 3 см^2 . Найди площадь всего квадрата.


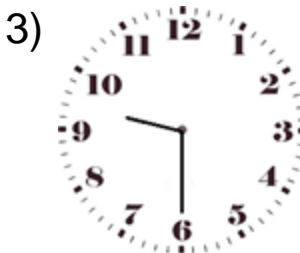

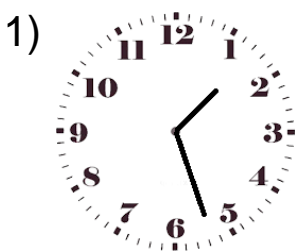
Ответ: _____ см^2 .

В ответ запиши *только* число.

- 7 Третьеклассники посетили экскурсию в одном из парков Москвы. Рассмотрите изображение.



Укажи часы, которые показывают время **начала** экскурсии.



8 В компьютерной игре выигрывает тот, кто наберёт наибольшее количество очков за две игры и покажет при этом наименьшее время.

Рассмотри таблицу и напиши, кто выиграл.

Имя	Количество очков		Время, потраченное на две игры
	Игра 1	Игра 2	
Марина	120	105	120 мин
Денис	105	100	130 мин
Аня	100	125	1 ч 40 мин

Ответ: _____.

В ответ запиши только имя.

Ответы

№ задания	Ответ	Макс. балл
1	4	1
2	22	1
3	8	1
4	10	1
5	22	1
6	12	1
7	3	1
8	Анна <или> Аня	1